

نام و نام خانوادگی:

به نام خالق زیبایی ها

پایه: سوم

ارزشیابی درس: ریاضی (نیمسال اول)

کلاس: آرامش

نام معلم: شکوری



سال تحصیلی ۱۴۰۲ - ۱۴۰۱

۱- جاهای خالی را کامل کنید؟

الف. ۶۸۰ میلی متر یعنیسانتی متر و میلی متر

ب. سانتی متر یعنی ۶۲ سانتی متر و ۳ متر

ج. متر یعنی ۴ کیلومتر و ۴۸ متر

د. ۵۶ گرم و ۴ کیلوگرم یعنی گرم

ه. ۱۹۴۰ ریال یعنی تومان

ق. ۷۰۴ تومان یعنی ریال

جزوه سیتی

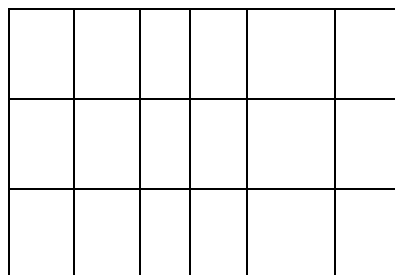
۲- دخترم الگوهای زیر را ادامه دهید؟

..... و و و و ۷۲ و ۷۰ و ۶۸

..... و و و و ۶۵ و ۷۸ و ۹۱

..... و و و و ۱۶۰ و ۱۱۳ و ۱۲۰

۳- دخترم برای اشکال زیر به صورت شمارش چند تا چند و عبارت شمارش چند تا چند و عبارت جمع مناسب بنویسید؟



۴- آقای احمدی برای سوپر مارکتش، دستمال کاغذی جعبه ای به قیمت ۲۰۰ تومان می خرد و ۳۵۰ تومان می فروشد؟ (رسم جدول)

الف) او چند دستمال کاغذی بفروشد تا ۶۰۰ تومان سود کند؟

ب) او با فروش ۷ دستمال کاغذی چقدر سود می کند؟

۵- جاهای خالی را با اعداد درست پر کنید؟

۱۵
۲۶
۴۴



۳
۱۸


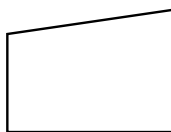

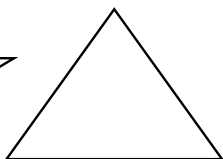



۱۱
۷

۶- جدول زیر را کامل کنید؟

زمان	۱۶		بیست و یک ربع		هفده و پنج دقیقه	۱۳:۱۰	
بعد ظهر		۱۱:۲۵		۰۳:۴۰			ده و نیم

۷- تقارن شکلهای زیر را بکشید؟

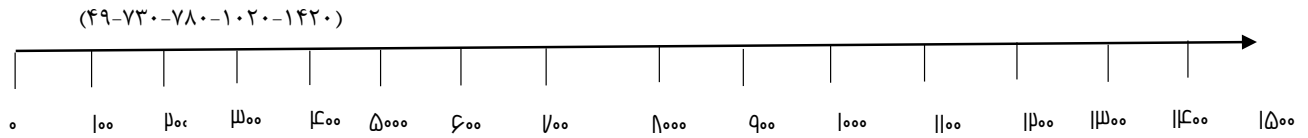


۸- به چند حالت می توان با سکه های موجود روبرو ۲۵۰ ریالی درست کرد؟ (رسم جدول)

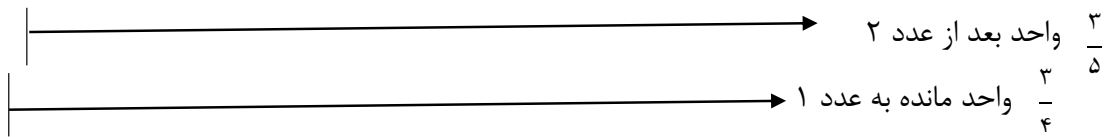
۵۰ ریال

۱۰ ریال

۹- اعداد زیر را به صورت تقریبی روی محور نشان دهید؟



۱۰- کسر های زیر را در محور نشان دهید؟



۱۱- کسرها را مقایسه کنید؟

$\frac{7}{8} \bigcirc \frac{4}{8}$ $\frac{3}{5} \bigcirc \frac{5}{5}$
 $\frac{2}{6} \bigcirc \frac{1}{6}$ $\frac{3}{5}$ واحد و $\frac{2}{5}$ واحد

جوزوه سیتی

۱۲- حاصل ضرب و تقسیم زیر را به روشی که خواسته شده بنویسید؟

۷×۲ (محور و شمارش)

۱۵÷۵ (محور و شمارش)

۱۳- حاصل عبارت های زیر را بدست آورید؟

$(۶ \times ۹) - (۴ \times ۷) = \dots - \dots = \dots$

$(۵ \times ۷) + (۱ \times ۷) = \dots + \dots = \dots$

$(۲۴ \div ۶) \times (۴ \times ۲) = \dots \times \dots = \dots$

$(۳ \times ۸) + (۴ \times ۶) = \dots + \dots = \dots$

۱۴- مادرم برای مهمانی اش ۴ بسته ۶ تایی ژله پرتقال و ۳ بسته ۷ تایی ژله توت فرنگی خریده است مادرم چند بسته ژله خریده است؟

راهنمای توصیف عملکرد

نیاز به تلاش	قابل قبول	خوب	خیلی خوب	ملاک و شواهد ارزشیابی
				۱-تحویل واحد ها را به خوبی می داند
				۲-الگویابی و شمارش چند تا چندتا را به خوبی مسلط است
				۳-مسئله ها را به خوبی مسلط است
				۴-ماشین ورودی و خروجی و ساعت را می داند
				۵-تقارن و تقریب را به خوبی درک کرده است
				۶- محور کسرها و مقایسه کسرها را به خوبی می داند
				۷- در ضرب کردن و تقسیم تسلط دارد

زیبایی یادگیری در این است که هیچ کس نمی تواند آن را از شما بگیرد
 با آرزوی موفقیت برای شما عزیزانم
 شگوری

